



Escola Municipal São Francisco

Luzerna, 14 de outubro de 2020

Professores: Jorge Jair Alves Junior e Josélia Zambiazzi

Turmas: 301 e 302

Componente curricular: Matemática

Matemática

Vídeo explicativo

Habilidade da BNCC (EF03MA07)



Correção das atividades do dia 07 de outubro

1) $67 - 37 = 30$

2) $7 \times 10 = 70$

3) $30 + 25 = 55$



❖ Bom dia alunos!

❖ Na aula de hoje, vamos resolver algumas situações que envolvem as ideias da adição e subtração.

❖ Façam a leitura dos enunciados com bastante atenção!

❖ Obs.: Vocês copiar essas atividades no seu caderno ou imprimir (enviado em anexo).






Questão n° 01: César tinha 83 peixes em seu açude. Ele colocou mais 51 peixes.

Quantos peixes há no açude de César agora?

Questão n° 02: Lúcio subiu em uma balança, e ela marcou 67 quilogramas. A seguir, Ricardo subiu na mesma balança, que, dessa vez, marcou 57 quilogramas.

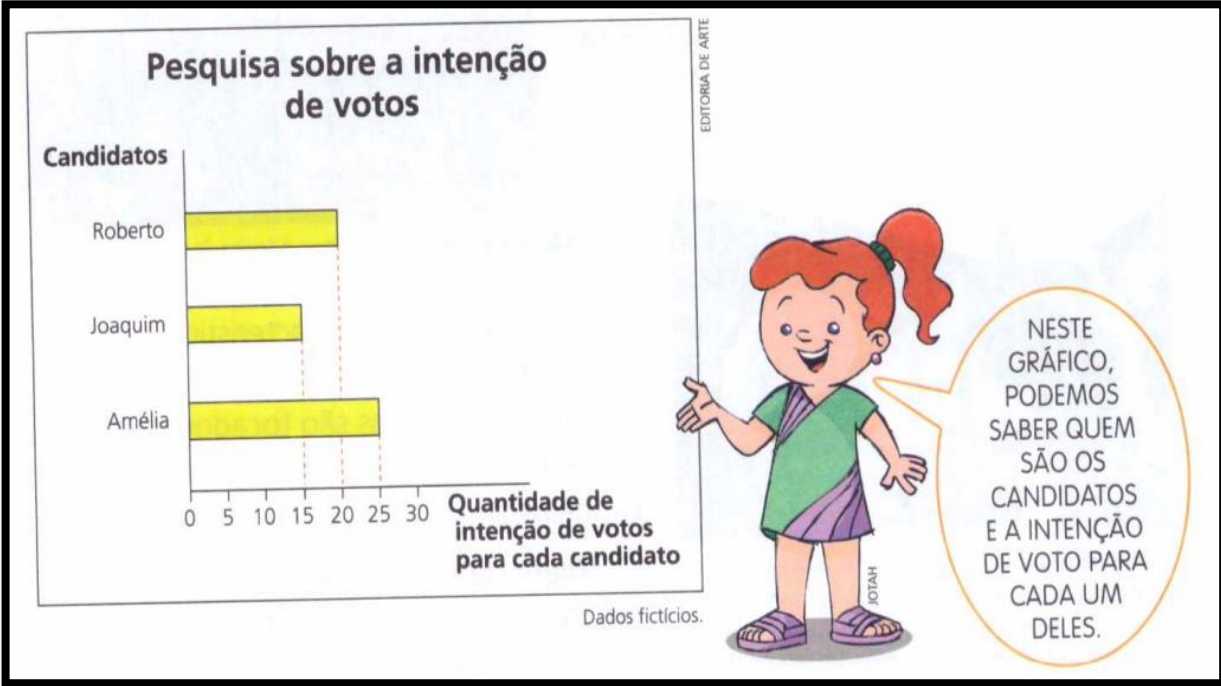
Se os dois subirem juntos em uma balança, quantos quilogramas ela vai marcar?


Questão n° 03: De um livro com 185 páginas, Maria já leu 78. Quantas páginas desse livro faltam ser lidas?



Questão nº 04: Para realizar um trabalho escolar, Mariana está consultando um gráfico que mostra a intenção de voto dos funcionários da escola onde estuda para o prefeito do Município.

Cada funcionário respondeu a pesquisa apenas uma vez.

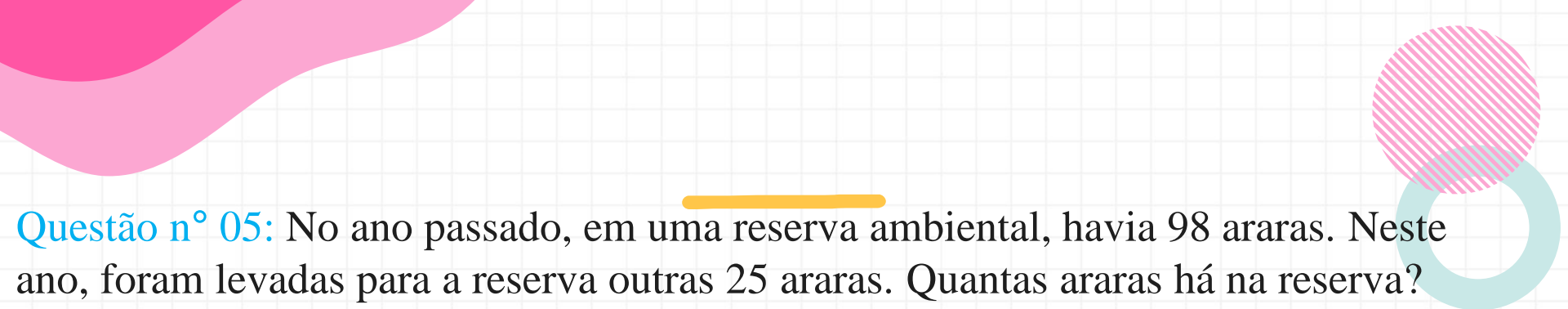




Com base no gráfico, responda:



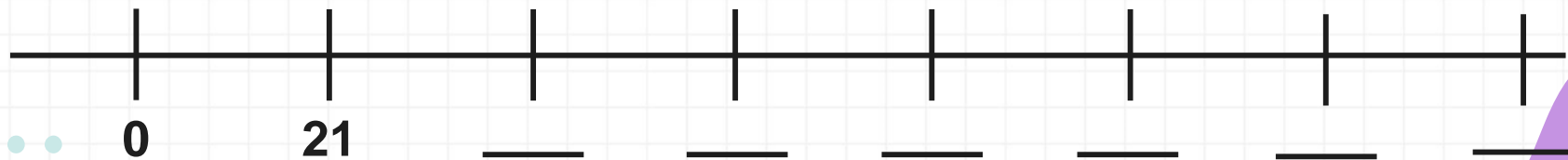
- a) Qual é o candidato que possui a maior quantidade de intenção de votos?
- b) Qual é o candidato que possui menor quantidade de intenção de votos?
- c) Como você pode calcular a diferença entre as quantidades de intenção de votos para esses dois candidatos? Qual é essa diferença?




Questão n° 05: No ano passado, em uma reserva ambiental, havia 98 araras. Neste ano, foram levadas para a reserva outras 25 araras. Quantas araras há na reserva?

Questão n° 06: Cíntia comprou duas caixas com cliques. Em uma delas, havia 42 cliques, e na outra, havia 39 cliques. Quantos cliques havia nas duas caixas?

Questão n° 07: Na sequência de números representados na reta numérica, cada número tem 21 unidades a mais que o anterior. Complete a sequência.





Boa aula!

